

Name:	
Klasse/Jahrgang:	



Standardisierte kompetenzorientierte schriftliche
Reife- und Diplomprüfung / Berufsreifeprüfung

BHS/BRP

Haupttermin 2021

Angewandte Mathematik

Berufsreifeprüfung

Mathematik

BAfEP, BASOP, BRP



Hinweise zur Aufgabenbearbeitung

Liebe Kandidatin! Lieber Kandidat!

Das vorliegende Aufgabenheft enthält Teil-A-Aufgaben und Teil-B-Aufgaben mit jeweils unterschiedlich vielen Teilaufgaben. Die Teilaufgaben sind unabhängig voneinander bearbeitbar.

Verwenden Sie für die Bearbeitung ausschließlich dieses Aufgabenheft und das Ihnen zur Verfügung gestellte Arbeitspapier. Schreiben Sie Ihren Namen und Ihren Jahrgang bzw. Ihre Klasse in die dafür vorgesehenen Felder auf dem Deckblatt des Aufgabenhefts sowie Ihren Namen und die fortlaufende Seitenzahl auf jedes verwendete Blatt Arbeitspapier. Geben Sie bei der Beantwortung jeder Teilaufgabe deren Bezeichnung (z. B.: 3d1) auf dem Arbeitspapier an.

In die Beurteilung wird alles einbezogen, was nicht durchgestrichen ist. Streichen Sie Notizen durch.

Die Verwendung der vom zuständigen Regierungsmitglied für die Klausurarbeit freigegebenen Formelsammlung für die SRDP in Angewandter Mathematik ist erlaubt. Weiters ist die Verwendung von elektronischen Hilfsmitteln (z. B. grafikfähiger Taschenrechner oder andere entsprechende Technologie) erlaubt, sofern keine Kommunikationsmöglichkeit (z. B. via Internet, Intranet, Bluetooth, Mobilfunknetzwerke etc.) gegeben ist und der Zugriff auf Eigendateien im elektronischen Hilfsmittel nicht möglich ist.

Eine Erläuterung der Antwortformate liegt im Prüfungsraum zur Durchsicht auf.

Handreichung für die Bearbeitung

- Jede Berechnung ist mit einem nachvollziehbaren Rechenansatz und einer nachvollziehbaren Dokumentation des Technologieeinsatzes (die verwendeten Ausgangsparameter und die verwendete Technologiefunktion müssen angegeben werden) durchzuführen.
- Selbst gewählte Variablen sind zu erklären und gegebenenfalls mit Einheiten zu benennen.
- Ergebnisse sind eindeutig hervorzuheben.
- Ergebnisse sind mit entsprechenden Einheiten anzugeben, wenn dies in der Handlungsanweisung explizit gefordert wird.
- Werden Diagramme oder Skizzen als Lösungen erstellt, so sind die Achsen zu skalieren und zu beschriften.
- Werden geometrische Skizzen erstellt, so sind die lösungsrelevanten Teile zu beschriften.
- Vermeiden Sie frühzeitiges Runden.
- Legen Sie allfällige Computerausdrucke der Lösung mit Ihrem Namen beschriftet bei.
- Wird eine Aufgabe mehrfach gerechnet, so sind alle Lösungswege bis auf einen zu streichen.

So ändern Sie Ihre Antwort bei Aufgaben zum Ankreuzen:

1. Übermalen Sie das Kästchen mit der nicht mehr gültigen Antwort.
2. Kreuzen Sie dann das gewünschte Kästchen an.

Hier wurde zuerst die Antwort „ $5 + 5 = 9$ “ gewählt und dann auf „ $2 + 2 = 4$ “ geändert.

$1 + 1 = 3$	<input type="checkbox"/>
$2 + 2 = 4$	<input checked="" type="checkbox"/>
$3 + 3 = 5$	<input type="checkbox"/>
$4 + 4 = 4$	<input type="checkbox"/>
$5 + 5 = 9$	<input checked="" type="checkbox"/>

So wählen Sie eine bereits übermalte Antwort:

1. Übermalen Sie das Kästchen mit der nicht mehr gültigen Antwort.
2. Kreuzen Sie das gewünschte übermalte Kästchen ein.

Hier wurde zuerst die Antwort „ $2 + 2 = 4$ “ übermalen und dann wieder gewählt.

$1 + 1 = 3$	<input type="checkbox"/>
$2 + 2 = 4$	<input checked="" type="checkbox"/>
$3 + 3 = 5$	<input type="checkbox"/>
$4 + 4 = 4$	<input checked="" type="checkbox"/>
$5 + 5 = 9$	<input type="checkbox"/>

Es gilt folgender Beurteilungsschlüssel:

44–48 Punkte	Sehr gut
38–43 Punkte	Gut
31–37 Punkte	Befriedigend
23–30 Punkte	Genügend
0–22 Punkte	Nicht genügend

Viel Erfolg!

Bitte umblättern.

Aufgabe 1

Zirkus

- a) Eine bestimmte Zirkusvorstellung wurde von 65 Erwachsenen und 57 Kindern besucht. Diese bezahlten insgesamt Eintritt in Höhe von 1.179 Euro.
Eine andere Zirkusvorstellung mit den gleichen Eintrittspreisen wurde von 82 Erwachsenen und 74 Kindern besucht. Diese bezahlten insgesamt Eintritt in Höhe von 1.502 Euro.
- 1) Erstellen Sie ein Gleichungssystem zur Berechnung des Eintrittspreises x für einen Erwachsenen und des Eintrittspreises y für ein Kind. [0/1 P.]
 - 2) Berechnen Sie die Eintrittspreise x und y . [0/1 P.]
- b) Eine Gruppe von n Personen bestellt Eintrittskarten für einen anderen Zirkus zu einem Eintrittspreis von p Euro pro Person. Bis zum Tag der Vorstellung hat sich die Gruppengröße jedoch um k Personen erhöht, und der Veranstalter gewährt deshalb allen eine Ermäßigung von 5 % auf den Eintrittspreis.
- 1) Kreuzen Sie den richtigen Ausdruck zur Berechnung des insgesamt bezahlten Eintritts an. [0/1 P.]
[1 aus 5]

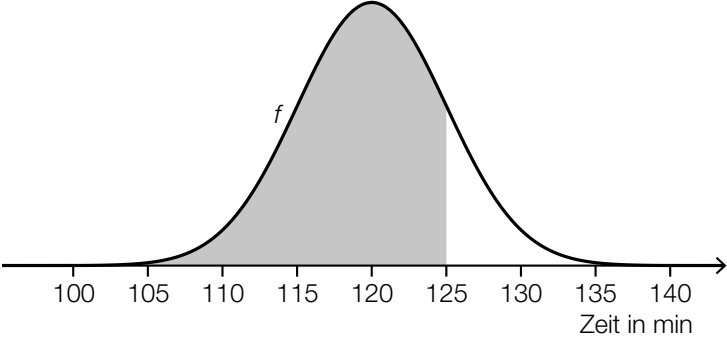
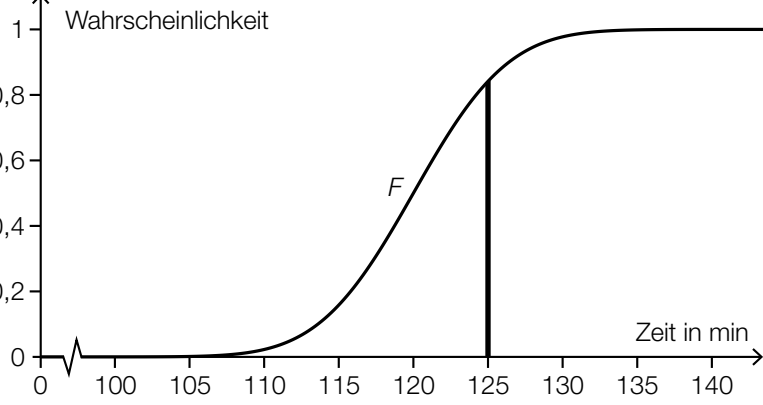
$\frac{(n+k) \cdot p}{0,95}$	<input type="checkbox"/>
$(n+k) \cdot p \cdot 0,95$	<input type="checkbox"/>
$0,95 \cdot (n+k \cdot p)$	<input type="checkbox"/>
$0,05 \cdot (n+k) \cdot p$	<input type="checkbox"/>
$(n \cdot k + p) \cdot 0,95$	<input type="checkbox"/>

c) Die Dauer der Zirkusvorstellungen ist annähernd normalverteilt mit dem Erwartungswert $\mu = 120$ min und der Standardabweichung $\sigma = 5$ min.

1) Berechnen Sie die Wahrscheinlichkeit, dass eine zufällig ausgewählte Zirkusvorstellung mindestens 118 min dauert. [0/1 P.]

Die Wahrscheinlichkeit, dass eine zufällig ausgewählte Zirkusvorstellung höchstens 125 min dauert, soll mithilfe der zugehörigen Dichtefunktion f bzw. mithilfe der zugehörigen Verteilungsfunktion F dargestellt werden.

2) Kreuzen Sie diejenige Darstellung an, die nicht dieser Wahrscheinlichkeit entspricht. [1 aus 5]

$0,5 + \int_{120}^{125} f(x) dx$	<input type="checkbox"/>
$\int_{-\infty}^{125} f(x) dx$	<input type="checkbox"/>
$1 - F(125)$	<input type="checkbox"/>
	<input type="checkbox"/>
	<input type="checkbox"/>

Aufgabe 2

Bäume

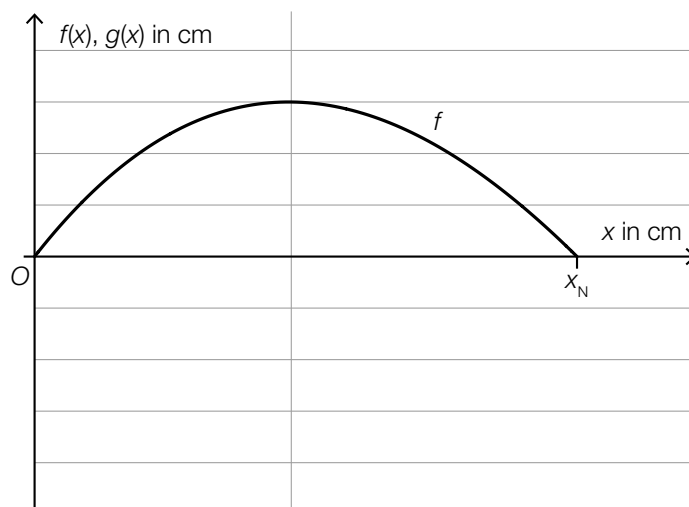
- a) Die Form des Blattes einer Buche lässt sich in einem Koordinatensystem näherungsweise durch die Fläche zwischen dem Graphen der Funktion f und dem Graphen der Funktion g beschreiben.

$$f(x) = 0,0047 \cdot x^3 - 0,2 \cdot x^2 + 1,28 \cdot x \quad \text{mit } 0 \leq x \leq x_N$$

$$g(x) = -f(x)$$

$x, f(x), g(x)$... Koordinaten in cm

In der nachstehenden Abbildung ist der Graph der Funktion f dargestellt.



- 1) Zeichnen Sie in der obigen Abbildung den Graphen der Funktion g im Intervall $[0; x_N]$ ein. [0/1 P.]
- 2) Berechnen Sie die Nullstelle x_N . [0/1 P.]
- 3) Berechnen Sie gemäß diesem Modell den Flächeninhalt dieses Blattes. [0/1 P.]

b) Für eine Modellrechnung werden folgende Annahmen getroffen:

An einem bestimmten Sommertag scheint die Sonne 14,5 Stunden lang.

Ein Blatt eines Laubbaums produziert bei Sonnenschein pro Stunde 2,14 mg Sauerstoff.

Ein Laubbaum hat 30000 Blätter.

1) Berechnen Sie die Sauerstoffmenge, die solch ein Laubbaum an diesem Sommertag produziert. Geben Sie das Ergebnis in Kilogramm an. [0/1 P.]

Eine Person benötigt 0,816 kg Sauerstoff pro Tag.

Man möchte wissen, wie viele solcher Laubbäume erforderlich sind, um den täglichen Sauerstoffbedarf von x Personen zu decken. Diese Anzahl an Laubbäumen wird mit n bezeichnet.

2) Stellen Sie mithilfe von x eine Formel zur Berechnung von n auf.

$n =$ _____

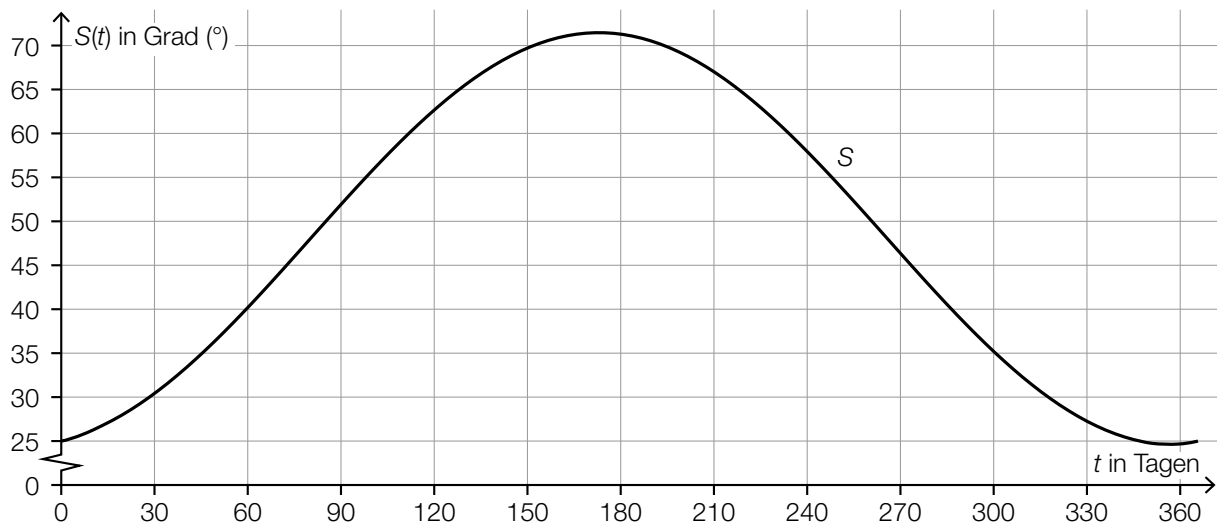
[0/1 P.]

Aufgabe 3

Sonnenlicht und Vitamin D

Für die Bildung von Vitamin D in der Haut ist Sonnenlicht nötig. Ist der Einfallswinkel der Sonnenstrahlen in der Atmosphäre zu klein, kann kein Vitamin D gebildet werden.

- a) Für jeden Tag eines Jahres wird der größte Einfallswinkel der Sonnenstrahlen betrachtet. Für eine bestimmte Stadt ist die zeitliche Entwicklung dieses Winkels als Graph der Funktion S dargestellt.



t ... Zeit ab Jahresbeginn in Tagen

$S(t)$... größter Einfallswinkel der Sonnenstrahlen zur Zeit t in Grad (°)

- 1) Lesen Sie dasjenige Zeitintervall ab, in dem der größte Einfallswinkel der Sonnenstrahlen mindestens 45° beträgt.

[_____ ; _____] (in Tagen)

[0/1 P.]

Es wird folgende Berechnung durchgeführt: $\frac{S(90) - S(0)}{90} \approx 0,3$

- 2) Interpretieren Sie das Ergebnis dieser Berechnung im gegebenen Sachzusammenhang. Geben Sie dabei die zugehörige Einheit an.

[0/1 P.]

- b) Die Vitamin-D-Konzentration in Claudias Blut sinkt ab Herbstbeginn und lässt sich durch die Funktion N beschreiben.

$$N(t) = N_0 \cdot e^{-0,0173 \cdot t}$$

t ... Zeit ab Herbstbeginn in Tagen

$N(t)$... Vitamin-D-Konzentration in Claudias Blut zur Zeit t in Nanogramm pro Milliliter (ng/ml)

N_0 ... Vitamin-D-Konzentration in Claudias Blut zu Herbstbeginn in ng/ml

Der Körper ist ausreichend mit Vitamin D versorgt, wenn dessen Konzentration im Blut mindestens 30 ng/ml beträgt.

Claudia möchte wissen, wie hoch die Vitamin-D-Konzentration im Blut zu Herbstbeginn mindestens sein muss, damit ihr Körper nach 60 Tagen noch ausreichend mit Vitamin D versorgt ist.

- 1) Berechnen Sie die dafür notwendige Vitamin-D-Konzentration zu Herbstbeginn. [0/1 P.]

Im obigen Modell beträgt die Halbwertszeit beim Abbau von Vitamin D in Claudias Körper 40 Tage.

- 2) Kreuzen Sie die zutreffende Aussage an. [1 aus 5]

[0/1 P.]

Nach 80 Tagen ist noch die Hälfte von N_0 vorhanden.	<input type="checkbox"/>
Nach 100 Tagen ist noch ein Drittel von N_0 vorhanden.	<input type="checkbox"/>
Nach 120 Tagen ist noch ein Viertel von N_0 vorhanden.	<input type="checkbox"/>
Nach 140 Tagen ist noch ein Achtel von N_0 vorhanden.	<input type="checkbox"/>
Nach 160 Tagen ist noch ein Sechzehntel von N_0 vorhanden.	<input type="checkbox"/>

Aufgabe 4

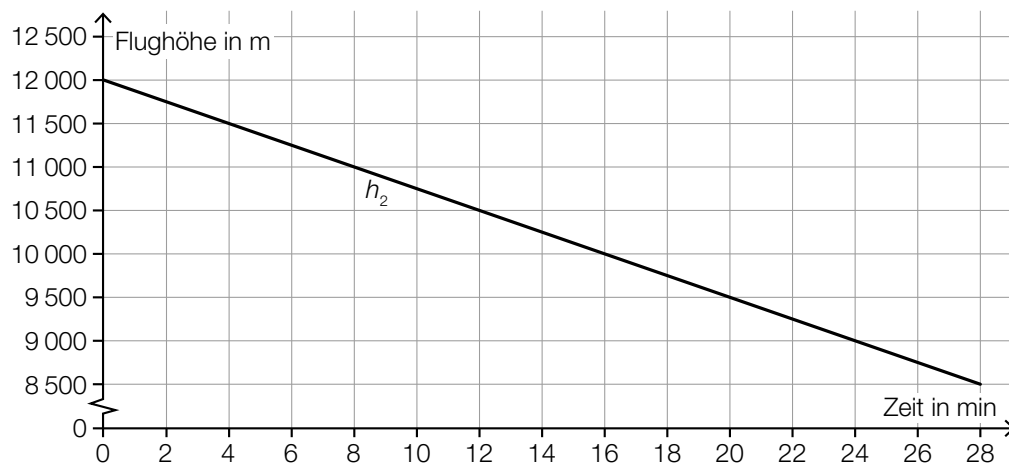
Steig- bzw. Sinkflug von Flugzeugen

- a) Ein Flugzeug beginnt zur Zeit $t = 0$ in einer Flughöhe von 12 000 m mit dem Sinkflug. Dabei nimmt die Flughöhe um 90 m/min ab. Die Flughöhe (in Metern) in Abhängigkeit von der Zeit t (in Minuten) soll für den Sinkflug durch die lineare Funktion h_1 beschrieben werden.

1) Stellen Sie eine Gleichung der Funktion h_1 auf.

[0/1 P.]

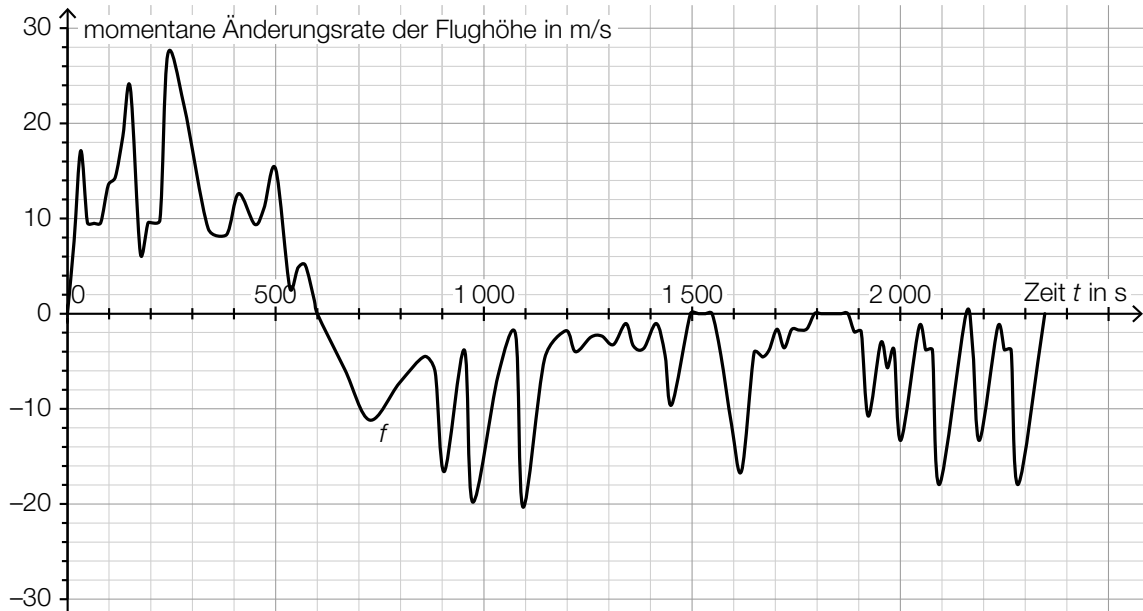
Für ein zweites Flugzeug zeigt der nachstehend dargestellte Graph der Funktion h_2 den Zusammenhang zwischen der Flughöhe und der Zeit.



- 2) Überprüfen Sie nachweislich, ob das zweite Flugzeug schneller als das erste Flugzeug sinkt.

[0/1 P.]

- b) Die momentane Änderungsrate der Flughöhe (Steig- bzw. Sinkgeschwindigkeit) eines Flugzeugs auf einem Flug von München nach Frankfurt am Main kann näherungsweise durch die Funktion f beschrieben werden (siehe nachstehende Abbildung).



Datenquelle: <https://de.flightaware.com/live/flight/DLH99/history/20180905/0710Z/EDDM/EDDF/tracklog> [22.02.2019].

Zur Zeit $t = 0$ hebt das Flugzeug in München ab.

- 1) Lesen Sie aus der obigen Abbildung diejenige Zeit t_m ab, zu der das Flugzeug seine maximale Flughöhe erreicht.

$$t_m = \underline{\hspace{2cm}} \text{ s}$$

[0/1 P.]

Es wird folgende Berechnung durchgeführt: $\int_{1550}^{1800} f(t) dt = -1\,249 \text{ m}$

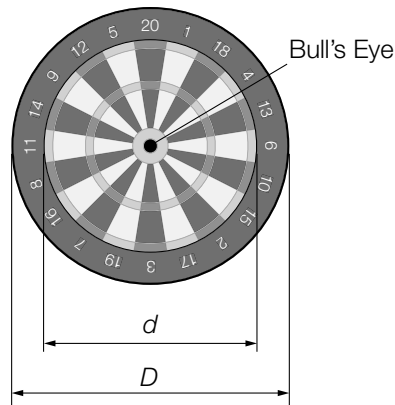
- 2) Interpretieren Sie das Ergebnis dieser Berechnung im gegebenen Sachzusammenhang.

[0/1 P.]

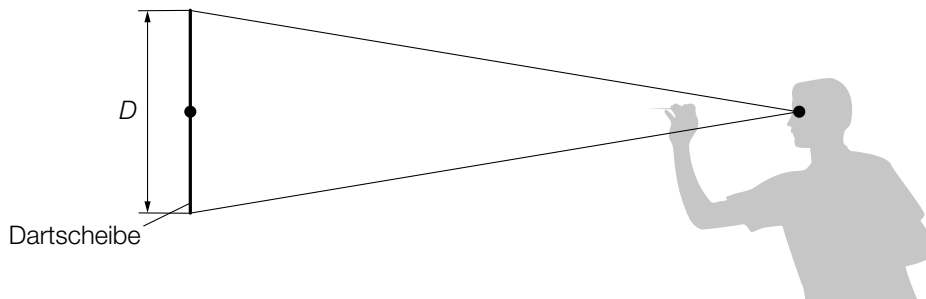
Aufgabe 5

Darts

Darts ist ein Spiel, bei dem Pfeile auf eine kreisförmige Dartscheibe geworfen werden (siehe nachstehende Abbildung).



- a) In der obigen Abbildung sind die Durchmesser zweier Kreise gekennzeichnet, die einen gemeinsamen Mittelpunkt haben. Der innere Kreis hat den Durchmesser $d = 34$ cm und der äußere Kreis den Durchmesser $D = 45$ cm.
- 1) Berechnen Sie, wie viel Prozent die Fläche des inneren Kreises bezogen auf jene des äußeren Kreises ausmacht. [0/1 P.]
- b) Eine Dartscheibe mit dem Durchmesser D hängt senkrecht an einer Wand (siehe unten stehende nicht maßstabgetreue Abbildung in der Ansicht von der Seite). Der Mittelpunkt der Dartscheibe und das Auge eines Spielers befinden sich in der gleichen Höhe über dem Boden. L ist der Abstand des Auges vom Mittelpunkt der Dartscheibe. α ist der Sehwinkel, unter dem der Spieler die Dartscheibe sieht.

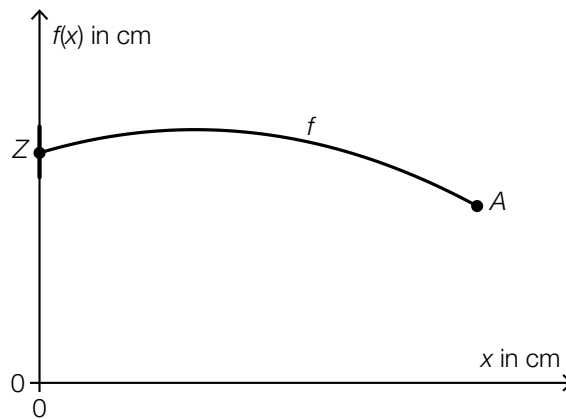


- 1) Zeichnen Sie in der obigen Abbildung die Größen L und α ein. [0/1 P.]
- 2) Stellen Sie mithilfe von D und L eine Formel zur Berechnung von α auf.

$\alpha =$ _____

[0/1 P.]

- c) Die nachstehende Abbildung zeigt modellhaft die Flugbahn eines Dartpfeils zwischen dem Abwurfpunkt A und dem Zielpunkt Z.



Die Flugbahn kann in diesem Modell durch den Graphen der quadratischen Funktion f beschrieben werden:

$$f(x) = a \cdot x^2 + b \cdot x + c$$

x ... horizontaler Abstand zur Dartscheibe in cm

$f(x)$... Höhe über dem Boden im Abstand x in cm

Der Zielpunkt Z befindet sich in einer Höhe von 173 cm über dem Boden.

Die größte Höhe von 182 cm über dem Boden erreicht der Pfeil an derjenigen Stelle, an der er vom Zielpunkt Z einen horizontalen Abstand von 75 cm hat.

- 1) Erstellen Sie ein Gleichungssystem zur Berechnung der Koeffizienten a , b und c . [0/1/2 P.]
 - 2) Berechnen Sie die Koeffizienten a , b und c . [0/1 P.]
- d) Ein Spieler wirft 5-mal hintereinander auf eine Dartscheibe. Die Wahrscheinlichkeit, das sogenannte *Bull's Eye* in der Mitte der Dartscheibe zu treffen, beträgt bei jedem Wurf p .
- 1) Ordnen Sie den beiden Satzanfängen jeweils eine Fortsetzung aus A bis D zu, sodass zutreffende Aussagen entstehen. [0/1 P.]

Mit dem Ausdruck $\binom{5}{4} \cdot p^4 \cdot (1 - p) + p^5$ wird die Wahrscheinlichkeit berechnet, dass der Spieler bei 5 Würfeln ...	
Mit dem Ausdruck $1 - \binom{5}{4} \cdot p^4 \cdot (1 - p) - p^5$ wird die Wahrscheinlichkeit berechnet, dass der Spieler bei 5 Würfeln ...	

A	... höchstens 3-mal das Bull's Eye trifft.
B	... mindestens 3-mal das Bull's Eye trifft.
C	... höchstens 4-mal das Bull's Eye trifft.
D	... mindestens 4-mal das Bull's Eye trifft.

Aufgabe 6 (Teil B)

Kinderlieder

Eine Pädagogin fragt die 26 Kinder ihrer Gruppe, ob sie das Kinderlied *Aramsamsam* und ob sie das Kinderlied *Backe, backe Kuchen* kennen.

7 Kinder kennen beide Kinderlieder.

Insgesamt 13 Kinder kennen das Kinderlied *Aramsamsam*.

3 Kinder kennen keines der beiden Kinderlieder.

a) Die Pädagogin wählt 2 verschiedene Kinder aus den 26 Kindern ihrer Gruppe zufällig aus.

1) Berechnen Sie die Wahrscheinlichkeit, dass beide Kinder sowohl das Kinderlied *Aramsamsam* als auch das Kinderlied *Backe, backe Kuchen* kennen. [0/1 P.]

2) Beschreiben Sie ein mögliches Ereignis E im gegebenen Sachzusammenhang, dessen Wahrscheinlichkeit mit dem nachstehenden Ausdruck berechnet wird.

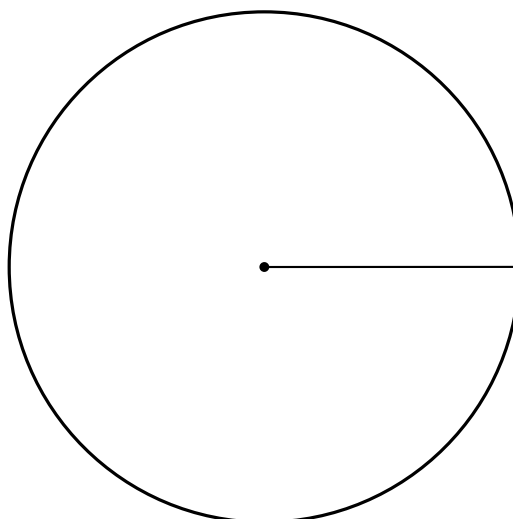
$$P(E) = \frac{3}{26} \cdot \frac{2}{25} \quad \text{[0/1 P.]}$$

b) In der nachstehenden Tabelle sollen für diesen Sachverhalt die zugehörigen Prozentsätze für die Gruppe von 26 Kindern eingetragen werden.

kennen genau eines der beiden Kinderlieder	%
kennen beide Kinderlieder	%
kennen keines der beiden Kinderlieder	11,54 %

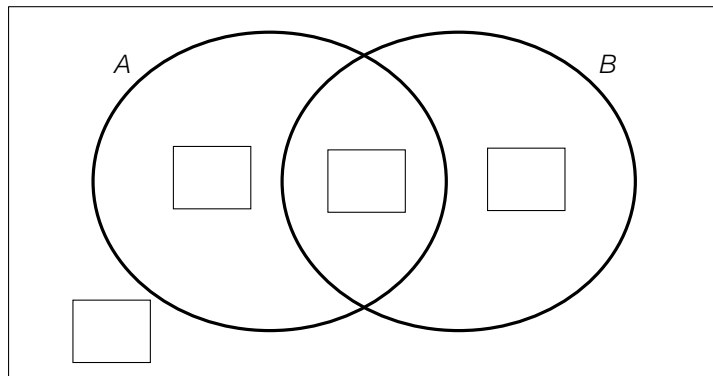
1) Tragen Sie in der obigen Tabelle die beiden fehlenden Zahlen ein. [0/1 P.]

2) Vervollständigen Sie das nachstehende Kreisdiagramm so, dass es den durch die Tabelle beschriebenen Sachverhalt wiedergibt. [0/1 P.]



- c) 1) Vervollständigen Sie das nachstehende Venn-Diagramm durch Eintragen aller Anzahlen in die dafür vorgesehenen Kästchen. [0/1 P.]

G



G ... Menge aller Kinder der Gruppe

A ... Menge der Kinder, die das Kinderlied *Aramsamsam* kennen

B ... Menge der Kinder, die das Kinderlied *Backe, backe Kuchen* kennen

- 2) Ermitteln Sie die Anzahl der Elemente der Menge $(A \cup B) \setminus (A \cap B)$. [0/1 P.]

Mit den Kindern, denen beide Kinderlieder bekannt sind, singt die Pädagogin das bis dahin allen Kindern der Gruppe unbekanntes Kinderlied *Twinkle, twinkle, little star*.

T ... Menge der Kinder, die das Kinderlied *Twinkle, twinkle, little star* mit der Pädagogin singen

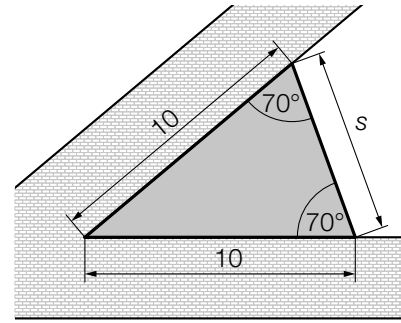
- 3) Kreuzen Sie die nicht zutreffende Aussage an. [1 aus 5] [0/1 P.]

$T \subseteq (A \cup B)$	<input type="checkbox"/>
$T \subseteq (A \cap B)$	<input type="checkbox"/>
$T \subseteq (G \setminus B)$	<input type="checkbox"/>
$T \not\subseteq (B \setminus A)$	<input type="checkbox"/>
$T \not\subseteq (A \setminus B)$	<input type="checkbox"/>

Aufgabe 7 (Teil B)

Schlosspark

- a) In einem Schlosspark wird ein dreieckiges Blumenbeet angelegt (siehe nebenstehende Abbildung – Maße in m).



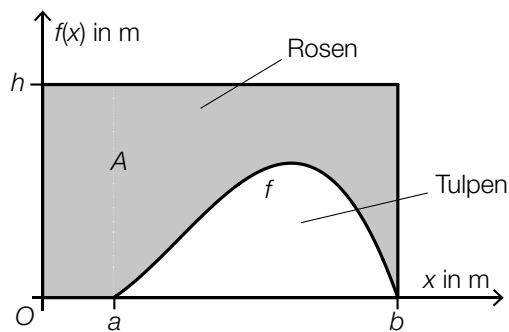
- 1) Ergänzen Sie den nachstehenden Ausdruck durch Eintragen der richtigen Werte in die dafür vorgesehenen Kästchen.

$$s = \sqrt{\boxed{} + \boxed{} - 2 \cdot 10^2 \cdot \cos(\boxed{})} \quad [0/1 P.]$$

Das Blumenbeet soll mit einem Vlies gegen Unkraut abgedeckt werden. Das Abdecken des Blumenbeets kostet pro Quadratmeter € 1,42.

- 2) Berechnen Sie die Kosten für das Abdecken des Blumenbeets. [0/1 P.]

- b) Ein rechteckiges Blumenbeet mit den Seitenlängen b und h ist in einen Bereich für Rosen und einen Bereich für Tulpen unterteilt. Die Begrenzungslinie zwischen diesen Bereichen kann modellhaft durch den Graphen der Funktion f beschrieben werden (siehe nachstehende Abbildung).



- 1) Stellen Sie mithilfe der obigen Abbildung eine Formel zur Berechnung des Inhalts A der grau markierten Fläche auf.

$$A = \underline{\hspace{10cm}} \quad [0/1 P.]$$

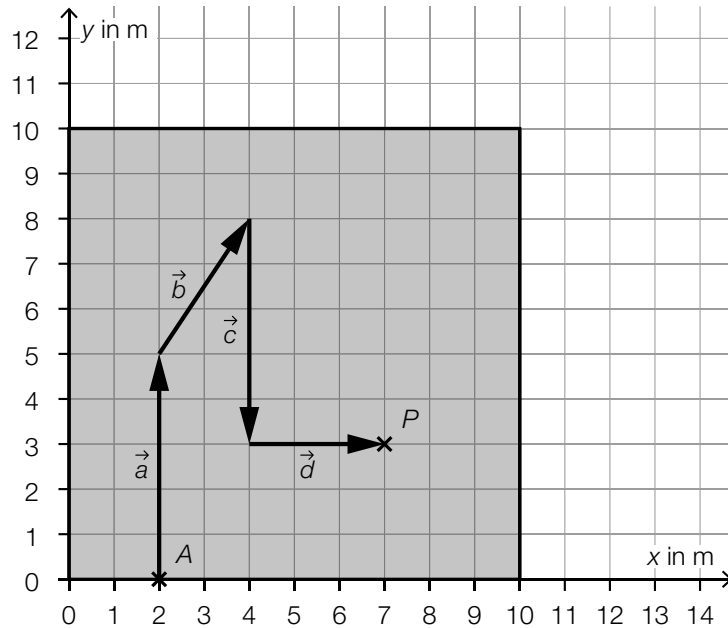
f ist eine Polynomfunktion 3. Grades mit $f(x) = a \cdot x^3 + b \cdot x^2 + c \cdot x + d$.
Folgende Punkte liegen auf dem Graphen von f : $(3|0,8)$, $(5|2,7)$, $(7|3,7)$, $(9|2,3)$.

- 2) Berechnen Sie mithilfe dieser Punkte die Koeffizienten a , b , c und d . [0/1 P.]

- c) Im Schlosspark gibt es ein Labyrinth aus Hecken. Der Weg durch das Labyrinth wird durch Aneinanderreihen der Vektoren $\vec{a}, \vec{b}, \vec{c}, \dots, \vec{h}$ (in alphabetischer Reihenfolge) beschrieben. Dabei beginnt jeder Vektor an der Spitze des vorherigen Vektors.

Es gilt: $\vec{e} = \begin{pmatrix} 0 \\ 3 \end{pmatrix}, \vec{f} = \begin{pmatrix} -2 \\ 0 \end{pmatrix}, \vec{g} = \begin{pmatrix} 1 \\ 2 \end{pmatrix}, \vec{h} = \begin{pmatrix} 4 \\ 0 \end{pmatrix}$ (Maße in m)

In der nachstehenden Abbildung ist die quadratische Grundfläche des Labyrinths dargestellt. Der Startpunkt A des Weges durch das Labyrinth, die ersten vier Vektoren und der Punkt P sind bereits eingezeichnet.



- 1) Tragen Sie die fehlenden Zahlen in die dafür vorgesehenen Kästchen ein.

$$\vec{b} = \begin{pmatrix} \boxed{} \\ \boxed{} \end{pmatrix}$$

[0/1 P.]

- 2) Ermitteln Sie die Länge des Weges durch das Labyrinth vom Startpunkt A zum Punkt P .

[0/1 P.]

- 3) Vervollständigen Sie ausgehend vom Punkt P den Weg durch das Labyrinth durch Einzeichnen der Vektoren $\vec{e}, \vec{f}, \vec{g}$ und \vec{h} .

[0/1 P.]

- 4) Kreuzen Sie die auf die gegebenen Vektoren nicht zutreffende Aussage an. [1 aus 5]

[0/1 P.]

Die Vektoren \vec{a} und \vec{c} sind Gegenvektoren.	<input type="checkbox"/>
Die Vektoren \vec{f} und \vec{g} haben den gleichen Betrag.	<input type="checkbox"/>
Die Vektoren \vec{f} und \vec{h} sind parallel.	<input type="checkbox"/>
Die Vektoren \vec{d} und \vec{e} haben den gleichen Betrag.	<input type="checkbox"/>
Die Vektoren \vec{d} und \vec{e} stehen normal aufeinander.	<input type="checkbox"/>

- d) Im Schlosspark wird Schilf gepflanzt. In den ersten Wochen nach der Pflanzung wird die Höhe einer bestimmten Pflanze notiert.

Zeit t nach der Pflanzung in Wochen	1	2	3	4	5	6
Höhe der Pflanze zur Zeit t in cm	30	34	39	44	48	52

Die Höhe dieser Pflanze soll in Abhängigkeit von der Zeit t durch die lineare Funktion h beschrieben werden.

t ... Zeit nach der Pflanzung in Wochen

$h(t)$... Höhe der Pflanze zur Zeit t in cm

- 1) Ermitteln Sie mithilfe der Regressionsrechnung eine Gleichung der linearen Funktion h .
[0/1 P.]
- 2) Berechnen Sie gemäß diesem Modell die Höhe der Pflanze 20 Wochen nach der Pflanzung.
[0/1 P.]

Bitte umblättern.

Aufgabe 8 (Teil B)

Ressourcen

Im Zeitraum von 1970 bis 2010 hat der jährliche globale Rohstoffverbrauch von 22 Milliarden Tonnen auf 70 Milliarden Tonnen zugenommen.*

Im selben Zeitraum hat sich die Weltbevölkerung auf 7 Milliarden verdoppelt.

- a) 1) Berechnen Sie auf Basis dieser Angaben den durchschnittlichen jährlichen Rohstoffverbrauch pro Person im Jahr 1970. [0/1 P.]

Die zeitliche Entwicklung des globalen Rohstoffverbrauchs kann durch eine arithmetische Folge oder durch eine geometrische Folge modelliert werden.

Im Modell *A* wird das jährliche prozentuelle Wachstum bezogen auf das jeweilige Vorjahr als konstant angenommen.

- 2) Erstellen Sie für das Modell *A* ein explizites Bildungsgesetz für den globalen Rohstoffverbrauch. Wählen Sie $n = 1$ für das Jahr 1970, d. h., $n = 41$ entspricht dem Jahr 2010. [0/1 P.]

Im Modell *B* wird das jährliche absolute Wachstum als konstant angenommen.

- 3) Erstellen Sie für das Modell *B* ein rekursives Bildungsgesetz für den globalen Rohstoffverbrauch. Wählen Sie $n = 1$ für das Jahr 1970, d. h., $n = 41$ entspricht dem Jahr 2010. [0/1 P.]

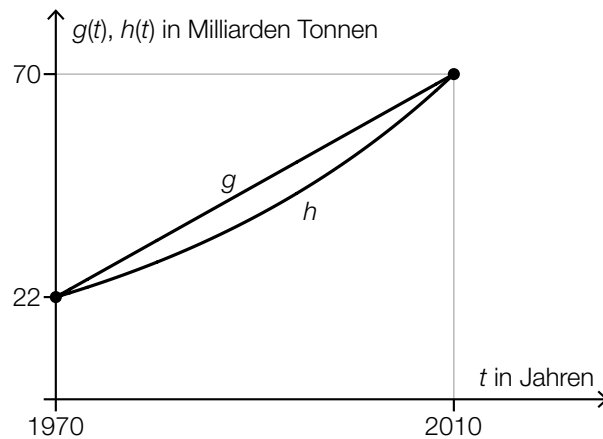
Für das Jahr 2050 wird ein jährlicher globaler Rohstoffbedarf von 180 Milliarden Tonnen angenommen.

- 4) Tragen Sie die fehlende Zahl in das dafür vorgesehene Kästchen ein.

$$180 \text{ Milliarden Tonnen} = 1,8 \cdot 10^{\boxed{}} \text{ kg} \quad [0/1 P.]$$

* Vgl. <http://derstandard.at/2000041471018/Weltweiter-Rohstoffverbrauch-seit-1970-mehr-als-verdreifacht> [26.11.2020].

- b) Die zeitliche Entwicklung des jährlichen globalen Rohstoffverbrauchs kann durch die streng monoton steigende lineare Funktion g oder durch die streng monoton steigende Exponentialfunktion h modelliert werden (siehe nachstehende Abbildung).



- 1) Ergänzen Sie die Textlücken im nachstehenden Satz durch Ankreuzen des jeweils zutreffenden Satzteils so, dass eine richtige Aussage entsteht. [0/1 P.]

Für _____ ① _____ von g und h gilt: _____ ② _____.

①	
genau 1 Stelle	<input type="checkbox"/>
genau 2 Stellen	<input type="checkbox"/>
mehr als 2 Stellen	<input type="checkbox"/>

②	
$g(t) = h(t) = 0$	<input type="checkbox"/>
$g'(t) = h'(t)$	<input type="checkbox"/>
$g''(t) = h''(t)$	<input type="checkbox"/>

c) Die zeitliche Entwicklung des jährlichen globalen Rohstoffverbrauchs kann durch verschiedene Polynomfunktionen modelliert werden.

1) Ordnen Sie den beiden Aussagen jeweils den entsprechenden Funktionsgraphen aus A bis D zu. [0/1 P.]

Für alle t mit $2010 < t < 2050$ gilt: $f''(t) > 0$	
Für genau ein t mit $1970 < t < 2050$ gilt: $f'(t) = 0$ und $f''(t) < 0$	

