

Vektorrechnung

Links: <http://members.chello.at/gut.jutta.gerhard/kurs/vektoren1.htm>
<http://members.chello.at/gut.jutta.gerhard/kurs/vektoren2.htm>
<http://www.mathematik.net/vektoral/va01.htm>

Definitionen und Bezeichnungen:

Ein **Vektor** \mathbf{a} ist eine gerichtete Größe (in der Physik: Kraft, Geschwindigkeit,...) Er kann durch einen Pfeil dargestellt werden (Repräsentant des Vektors).

Die Länge des Pfeils bezeichnet man als **Betrag** des Vektors.

Alle gleichlangen, parallelen und gleichgerichteten Pfeile gehören zum selben Vektor.

Im Unterschied dazu heißen gewöhnliche Zahlen jetzt: **Skalar**

(Bemerkung: Vektoren werden im Folgenden mit darüber gestelltem Pfeil dargestellt.)

Der zu \vec{a} entgegengesetzte Vektor $\overrightarrow{-a}$ heißt **Gegenvektor** von \vec{a} .

Zwei Vektoren werden **addiert**, indem man ihre Repräsentanten "aneinanderhängt". Aus dem dargestellten Parallelogramm ergibt sich:

$$\vec{a} + \vec{b} = \vec{b} + \vec{a}$$

Die Summe aus einem Vektor \vec{a} und seinem Gegenvektor $\overrightarrow{-a}$ ist der **Nullvektor** $\vec{0}$

Zwei Vektoren werden **subtrahiert**, indem man **b** auf **a** ergänzt ("b plus wieviel ist a?") oder besser: **-b** zu **a** addiert.

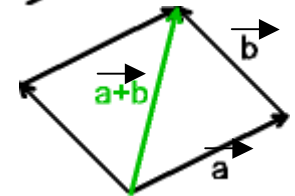
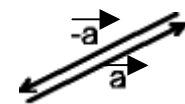
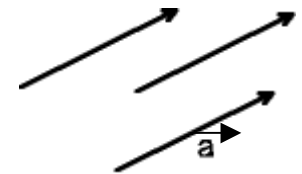
Ein Vektor wird **mit einem Skalar k multipliziert**, indem man ihn um den Faktor k streckt bzw. staucht.

Der Vektor $k \cdot \mathbf{a}$ ist parallel zu \mathbf{a} und

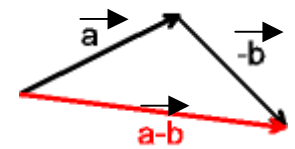
gleich orientiert, wenn $k > 0$

entgegengesetzt orientiert, wenn $k < 0$

Zwei Vektoren sind genau dann **parallel**, wenn der eine das k-fache des anderen ist.



$$\vec{a} + \overrightarrow{-a} = \vec{0}$$



Beispiel:

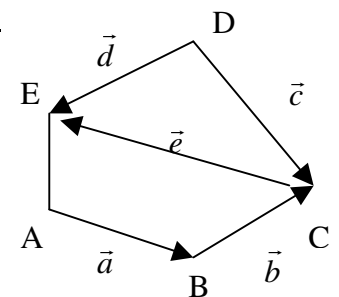
In nebenstehendem Fünfeck sind folgende Vektoren gegeben:

$$\vec{a} = \overrightarrow{AB} \quad \vec{b} = \overrightarrow{BC} \quad \vec{c} = \overrightarrow{DC} \quad \vec{d} = \overrightarrow{DE} \quad \vec{e} = \overrightarrow{CE}$$

Gesucht: Mit welcher Vektorsumme komme ich von A nach C ?

Mit welcher Vektorsumme komme ich von A nach D?

Geben Sie 2 Wege von A nach D an!



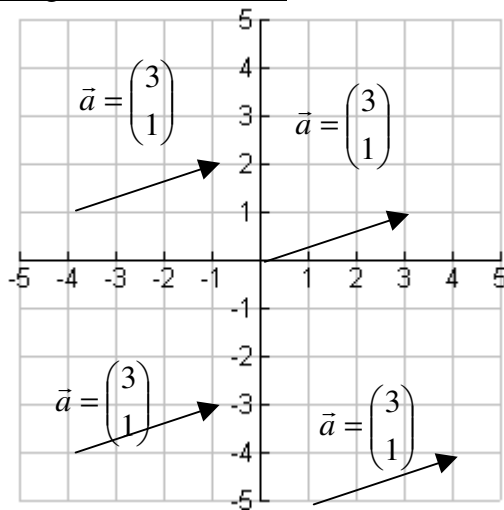
Lösung:

$$\overrightarrow{AC} = \overrightarrow{AB} + \overrightarrow{BC} = \vec{a} + \vec{b} \quad \overrightarrow{AD} = \overrightarrow{AB} + \overrightarrow{BC} + \overrightarrow{CD} = \vec{a} + \vec{b} - \vec{c}$$

$$\overrightarrow{CE} = \vec{e} \quad \text{oder} \quad \overrightarrow{CE} = \overrightarrow{CD} + \overrightarrow{DE} = -\vec{c} + \vec{a}$$

Koordinatendarstellung von Vektoren: $\vec{a} = \begin{pmatrix} 3 \\ 1 \end{pmatrix}$

Vektoren sind eine Verallgemeinerung von Pfeilen. Ein Vektor ist die Menge aller gleich langen und gleich gerichteten Pfeilen. Das drückt sich auch in den Koordinaten eines Vektors aus:



$\vec{a} = \begin{pmatrix} 3 \\ 1 \end{pmatrix}$ heißt: 3 rechts, 1 rauf, egal von welchem Anfangspunkt!

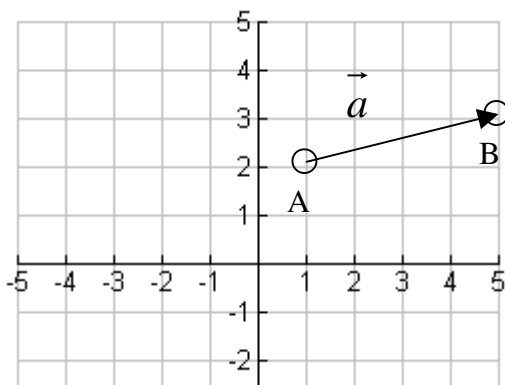
Anwendung der Vektorrechnung:
Zeichenprogramme arbeiten meist vektororientiert, was den Vorteil hat, dass die Objekte verschiebbar und beliebig vergrößern- und verkleinerbar sind.
Aufgabe: Verschieben Sie einen Fernseher im Zimmergrundriss!

Wie hängen Vektoren $\vec{a}, \vec{b}, \vec{c}$ mit Punkten A,B,C,D zusammen ?

Beispiel:

Gegeben sind die Punkte A(1,2) und B(5,3). Welche Koordinaten hat der Vektor $\vec{a} = \overrightarrow{AB}$

Lösung:



Um die Koordinaten zu bestimmen, müssen wir nur von A ausgehen und 4 Einheiten nach rechts gehen und 1 Einheit nach oben gehen und dann sind wir bei B. Das heißt, die

Koordinaten von \vec{a} sind: $\begin{pmatrix} 4 \\ 1 \end{pmatrix}$

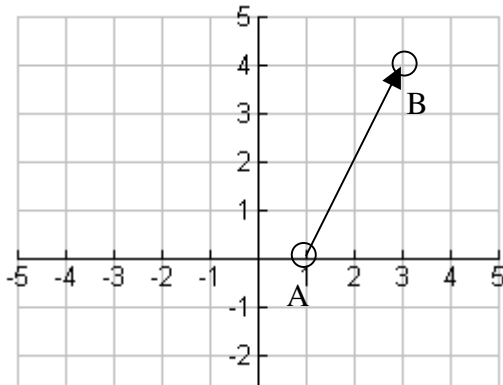
Daraus folgt: **Vektorkoordinaten sind Relative Koordinaten** des Endpunktes in Bezug auf den Anfangspunkt, oder noch einfacher:

1) SPITZE MINUS SCHAFT – REGEL: $\overrightarrow{AB} = B - A = \begin{pmatrix} 5 \\ 3 \end{pmatrix} - \begin{pmatrix} 1 \\ 2 \end{pmatrix} = \begin{pmatrix} 4 \\ 1 \end{pmatrix}$

Beispiel:

Gegeben sind ein Punkt $A(1|0)$ und ein Vektor $\vec{v} = \begin{pmatrix} 2 \\ 4 \end{pmatrix}$. Was passiert, wenn man den Vektor an den Punkt A anhängt. Wohin zeigt dann die Spitze des Vektors? Nennen wir diesen Punkt B. Welche Koordinaten hat B?

Lösung:



B hat die Koordinaten $B(3|4)$.

Diese erhält man auf die folgende Art:

$$B = A + \vec{v} = \begin{pmatrix} 1 \\ 0 \end{pmatrix} + \begin{pmatrix} 2 \\ 4 \end{pmatrix} = \begin{pmatrix} 3 \\ 4 \end{pmatrix}$$

daraus folgt:

2) PVP-REGEL (PUNKT + VEKTOR = PUNKT):

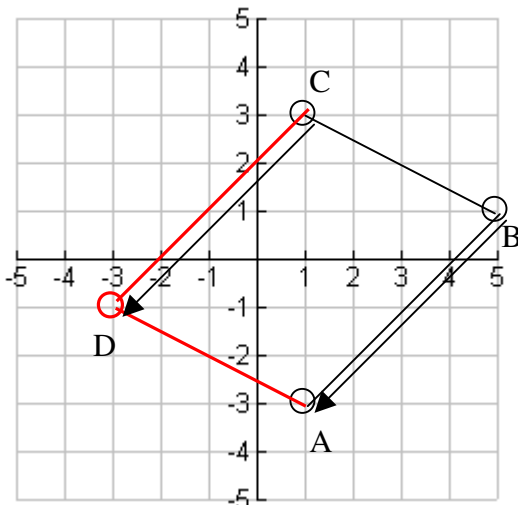
$$A + \overrightarrow{AB} = B$$

Beispiel:

Gegeben sind 3 der vier Eckpunkte eines Parallelogramms: $A(1|-3)$, $B(5|1)$, $C(1|3)$. Gesucht ist der vierte Punkt durch gezielte Anwendung der Vektorbildung

Lösung:

Da der Vektor \overrightarrow{BA} gleich dem Vektor \overrightarrow{CD} ist, kann man diesen Vektor aus den Koordinaten von B und A bestimmen und dann an den Punkt C anhängen:



$$\overrightarrow{BA} = A - B = \begin{pmatrix} 1 \\ -3 \end{pmatrix} - \begin{pmatrix} 5 \\ 1 \end{pmatrix} = \begin{pmatrix} -4 \\ -4 \end{pmatrix} \text{ (Spitze - Schaft-Regel)}$$

$$\overrightarrow{CD} = D - C \quad | + C$$

$$D = C + \overrightarrow{CD}$$

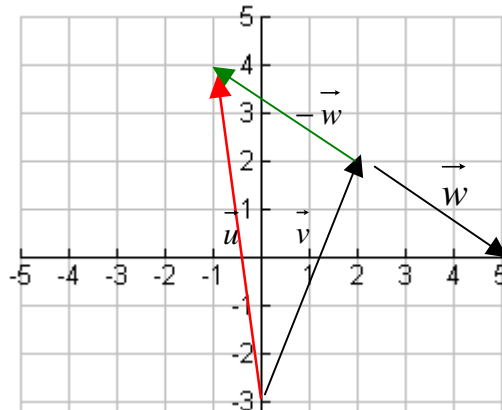
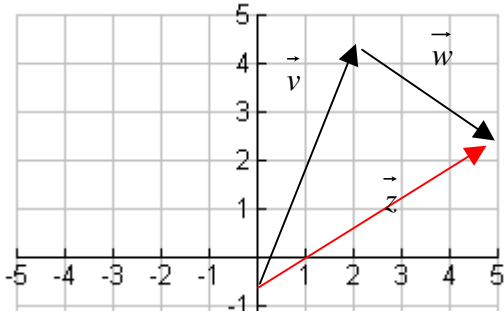
$$D = C + \overrightarrow{BA}$$

$$D = \begin{pmatrix} 1 \\ 3 \end{pmatrix} + \begin{pmatrix} -4 \\ -4 \end{pmatrix} = \begin{pmatrix} -3 \\ -1 \end{pmatrix}$$

ergibt D (-3|-1)

3) **Parallele** Vektoren erkennt man daran, dass die Koordinaten gleich oder ein bestimmtes Vielfaches voneinander sind: $\vec{v} = k \cdot \vec{w}$ zum Beispiel: $\begin{pmatrix} 6 \\ 2 \end{pmatrix} = 2 \cdot \begin{pmatrix} 3 \\ 1 \end{pmatrix} \Rightarrow \vec{v} \text{ und } \vec{w} \text{ sind parallel.}$

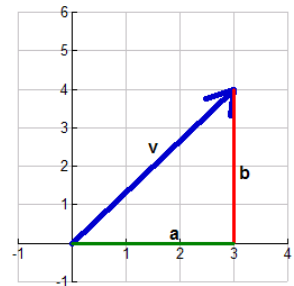
4) **Vektoraddition:** $\vec{v} + \vec{w} = \vec{z}$ $\begin{pmatrix} 2 \\ 5 \end{pmatrix} + \begin{pmatrix} 3 \\ -2 \end{pmatrix} = \begin{pmatrix} 5 \\ 3 \end{pmatrix}$



5) **Vektorsubtraktion:** $\vec{v} - \vec{w} = \vec{u}$ \rightarrow Addition des Gegenvektors: $\vec{v} + (-\vec{w}) = \vec{u}$
 $\begin{pmatrix} 2 \\ 5 \end{pmatrix} - \begin{pmatrix} 3 \\ -2 \end{pmatrix} = \begin{pmatrix} -1 \\ 7 \end{pmatrix}$

6) **Vervielfachen** eines Vektors $\vec{w} = k \cdot \vec{v}$ $\vec{w} = 2 \cdot \begin{pmatrix} 1 \\ 3 \end{pmatrix} = \begin{pmatrix} 2 \\ 6 \end{pmatrix}$

7) **Länge eines Vektors** = Vektorbetrag: $|\vec{v}| = \left| \begin{pmatrix} a \\ b \end{pmatrix} \right| = \sqrt{a^2 + b^2}$
 (Lehrsatz des Pythagoras)



8) **Einheitsvektor:** Vektor mit Länge 1, ergibt sich, wenn man den Vektor durch seinen Betrag (=Länge) dividiert:
 $\vec{a}_0 = \frac{\vec{a}}{|\vec{a}|} = \frac{1}{\sqrt{x^2 + y^2}} \cdot \begin{pmatrix} x \\ y \end{pmatrix}$

9) **Vektor mit bestimmter Länge:** ergibt sich, wenn man den Einheitsvektor mit der gesuchten Länge k multipliziert: $k \cdot \vec{a}_0 = k \cdot \frac{\vec{a}}{|\vec{a}|} = \frac{k}{\sqrt{x^2 + y^2}} \cdot \begin{pmatrix} x \\ y \end{pmatrix}$

<p>Beispiel: Gehe 20 km in Richtung des Vektors $\vec{v} = \begin{pmatrix} 3 \\ 4 \end{pmatrix}$</p>	
<p>Lösung: Dazu bestimme ich zuerst die Länge des Vektors : $\vec{v} = \left \begin{pmatrix} a \\ b \end{pmatrix} \right = \sqrt{a^2 + b^2} = \sqrt{3^2 + 4^2} = \sqrt{25} = 5$ Da der gesuchte Vektor 20 km lang sein soll, muss ich \vec{v} mit 4 multiplizieren: $4\vec{v} = 4 \cdot \begin{pmatrix} 3 \\ 4 \end{pmatrix} = \begin{pmatrix} 12 \\ 16 \end{pmatrix}$</p>	

Beispiel:

Ist das Dreieck A(1|1), B(4|-3), C(4|5) gleichschenkelig(-seitig)?
 Wenn ja, welche Seiten sind gleich lang und wie lang?

Lösung:

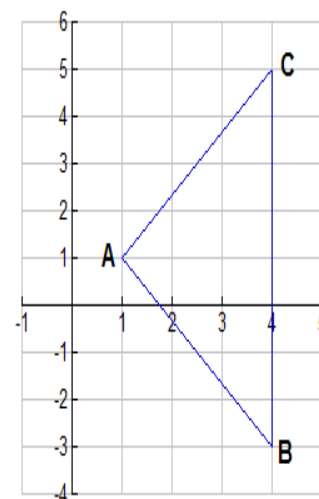
Wir berechnen einfach die Längen der Seiten. Dazu stellen wir die Seitenvektoren auf und bestimmen den Vektorbetrag:

$$\overrightarrow{AB} = B - A = \begin{pmatrix} 4 \\ -3 \end{pmatrix} - \begin{pmatrix} 1 \\ 1 \end{pmatrix} = \begin{pmatrix} 3 \\ -4 \end{pmatrix} \quad |\overrightarrow{AB}| = \sqrt{3^2 + (-4)^2} = \sqrt{25} = 5$$

$$\overrightarrow{BC} = C - B = \begin{pmatrix} 4 \\ 5 \end{pmatrix} - \begin{pmatrix} 4 \\ -3 \end{pmatrix} = \begin{pmatrix} 0 \\ 8 \end{pmatrix} \quad |\overrightarrow{BC}| = \sqrt{0^2 + 8^2} = \sqrt{64} = 8$$

$$\overrightarrow{CA} = A - C = \begin{pmatrix} 1 \\ 1 \end{pmatrix} - \begin{pmatrix} 4 \\ 5 \end{pmatrix} = \begin{pmatrix} -3 \\ -4 \end{pmatrix} \quad |\overrightarrow{CA}| = \sqrt{(-3)^2 + (-4)^2} = \sqrt{25} = 5$$

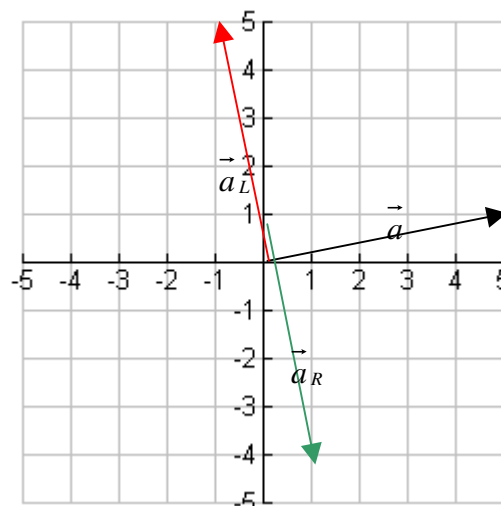
Die Seitenlängen sind also 5,8,5 und daher sind die Seiten AB und AC gleich lang.



10) rechtwinkeliges Kippen → Normalvektor bestimmen

$$\vec{a} = \begin{pmatrix} 5 \\ 1 \end{pmatrix} \quad \vec{a}_L = \begin{pmatrix} -1 \\ 5 \end{pmatrix} \quad \vec{a}_R = \begin{pmatrix} 1 \\ -5 \end{pmatrix}$$

→ **Koordinaten vertauschen und oben** (für links-kippen) oder **unten** (für rechts-kippen) **ein Vorzeichen ändern**



Beispiel:

Gegeben sind zwei Punkte eines Rechtecks: A(0|1) und B(4|0)
 Wie lauten die Koordinaten der übrigen Punkte, wenn die zweite Seite doppelt so lang wie die erste Seite sein soll?

Lösung:

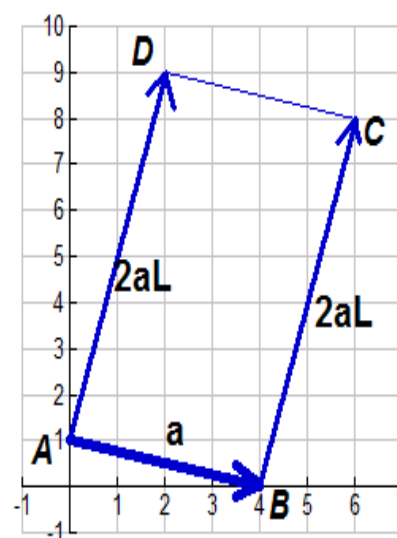
Wir bilden den Vektor $\vec{a} = \overrightarrow{AB} = B - A = \begin{pmatrix} 4 \\ 0 \end{pmatrix} - \begin{pmatrix} 0 \\ 1 \end{pmatrix} = \begin{pmatrix} 4 \\ -1 \end{pmatrix}$

und kippen ihn nach links $\vec{a}_L = \begin{pmatrix} 1 \\ 4 \end{pmatrix}$, verdoppeln ihn: $2\vec{a}_L = \begin{pmatrix} 2 \\ 8 \end{pmatrix}$

und hängen ihn mit der PVP-Regel an die Punkte A und B an:

$$C = B + 2\vec{a}_L = \begin{pmatrix} 4 \\ 0 \end{pmatrix} + \begin{pmatrix} 2 \\ 8 \end{pmatrix} = \begin{pmatrix} 6 \\ 8 \end{pmatrix}$$

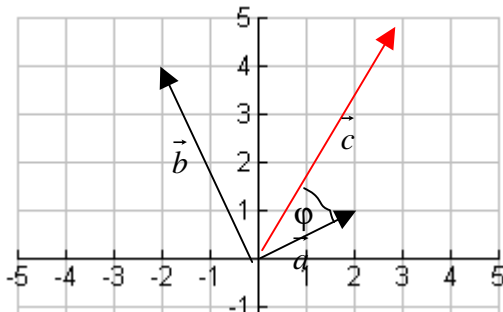
$$D = A + 2\vec{a}_L = \begin{pmatrix} 0 \\ 1 \end{pmatrix} + \begin{pmatrix} 2 \\ 8 \end{pmatrix} = \begin{pmatrix} 2 \\ 9 \end{pmatrix}$$



11) Skalares Produkt von Vektoren: $\vec{a} \circ \vec{b} = \begin{pmatrix} p \\ q \end{pmatrix} \circ \begin{pmatrix} r \\ s \end{pmatrix} = p \cdot r + q \cdot s$

oben mal oben plus unten mal unten!

Wenn das **skalare Produkt** von Vektoren **Null** ist, stehen die Vektoren aufeinander **rechtwinkelig** !



$$\begin{pmatrix} 2 \\ 1 \end{pmatrix} \circ \begin{pmatrix} -2 \\ 4 \end{pmatrix} = 2 \cdot (-2) + 1 \cdot 4 = -4 + 4 = 0$$

12) nur für M2/M3: Winkel φ zwischen \vec{a} und \vec{c} : $\cos \varphi = \frac{\vec{a} \circ \vec{c}}{|\vec{a}| \cdot |\vec{c}|}$

Beispiel: Bestimmen Sie den Winkel φ zwischen $\vec{a} = \begin{pmatrix} 2 \\ 1 \end{pmatrix}$ und $\vec{c} = \begin{pmatrix} 3 \\ 5 \end{pmatrix}$

Lösung:

$$\cos \varphi = \frac{\begin{pmatrix} 2 \\ 1 \end{pmatrix} \circ \begin{pmatrix} 3 \\ 5 \end{pmatrix}}{\left| \begin{pmatrix} 2 \\ 1 \end{pmatrix} \right| \cdot \left| \begin{pmatrix} 3 \\ 5 \end{pmatrix} \right|} = \frac{2 \cdot 3 + 1 \cdot 5}{\sqrt{2^2 + 1^2} \cdot \sqrt{3^2 + 5^2}} = \frac{11}{\sqrt{5} \cdot \sqrt{34}} = 0,8437 \implies \varphi = \cos^{-1}(0,8437) = 32,47^\circ$$

Physikalische Bedeutung des skalaren Produkts:

In der Physik gibt es den Begriff der Arbeit, der aus der Krafteinwirkung auf einen Körper und dem zurückgelegten Weg besteht: **Arbeit = Kraft mal Weg** (z.B.: 50 Newton·20m = **1000 J**)

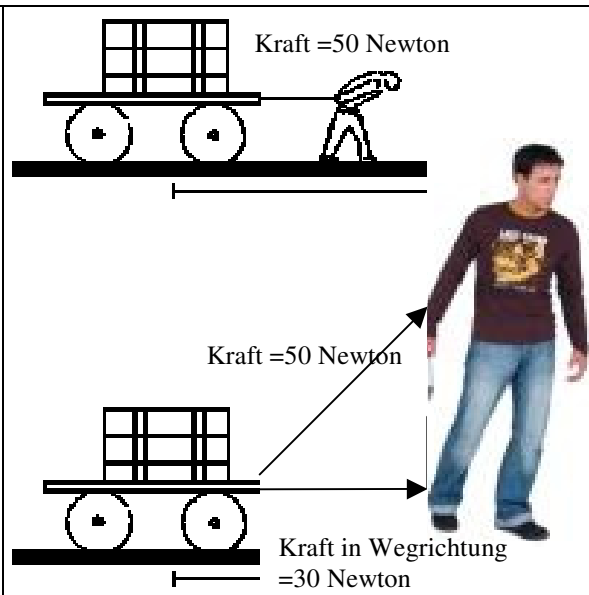
Jetzt ist aber dieses Gesetz nur dann gültig, wenn Kraft und Weg in die gleiche Richtung gehen. Das skalare Produkt liefert den richtigen Zusammenhang:

Arbeit = Kraftvektor skalar multipliziert mit dem Wegvektor

Beispiel: Kraft = 50 Newton (≈5 kg Schwerkraft) in Richtung $\begin{pmatrix} 3 \\ 4 \end{pmatrix}$

ergibt den Kraftvektor $\vec{F} = \begin{pmatrix} 30 \\ 40 \end{pmatrix}$, multipliziert mit dem Wegvektor

$$\begin{pmatrix} 20 \\ 0 \end{pmatrix} \text{ ergibt: } \begin{pmatrix} 30 \\ 40 \end{pmatrix} \circ \begin{pmatrix} 20 \\ 0 \end{pmatrix} = 30 \cdot 20 + 40 \cdot 0 = 600 \text{ Nm} = \mathbf{600 \text{ J}}$$



Beispiel: Bestimmen Sie den Typ des Vierecks ABCD [A(1|-1), B(5|1), C(4|5), D(0|3)]
 (Ist es ein Quadrat, ein Rechteck, ein Parallelogramm, ein Rhombus, ein Deltoid, ein Trapez oder ein allgemeines Viereck?).
 Verwenden Sie das Parallelitäts- und Orthogonalitätskriterium sowie die Formel für die Länge von Vektoren.

Lösung:

Zuerst werden wir die Seitenvektoren und deren Längen aufstellen:

$$\vec{AB} = B - A = \begin{pmatrix} 5 \\ 1 \end{pmatrix} - \begin{pmatrix} 1 \\ -1 \end{pmatrix} = \begin{pmatrix} 4 \\ 2 \end{pmatrix} \quad |\vec{AB}| = \sqrt{4^2 + 2^2} = \sqrt{20} \approx 4,5$$

$$\vec{BC} = C - B = \begin{pmatrix} 4 \\ 5 \end{pmatrix} - \begin{pmatrix} 5 \\ 1 \end{pmatrix} = \begin{pmatrix} -1 \\ 4 \end{pmatrix} \quad |\vec{BC}| = \sqrt{(-1)^2 + 4^2} = \sqrt{17} \approx 4,1$$

$$\vec{CD} = D - C = \begin{pmatrix} 0 \\ 3 \end{pmatrix} - \begin{pmatrix} 4 \\ 5 \end{pmatrix} = \begin{pmatrix} -4 \\ -2 \end{pmatrix} \quad |\vec{CD}| = \sqrt{(-4)^2 + (-2)^2} = \sqrt{20} \approx 4,5$$

$$\vec{DA} = A - D = \begin{pmatrix} 1 \\ -1 \end{pmatrix} - \begin{pmatrix} 0 \\ 3 \end{pmatrix} = \begin{pmatrix} 1 \\ -4 \end{pmatrix} \quad |\vec{DA}| = \sqrt{1^2 + (-4)^2} = \sqrt{17} \approx 4,1$$

Parallelitätskriterium: $\vec{AB} = -\vec{CD} \rightarrow$ **Parallelogramm**

(man versuche zwei gleich lange Bleistifte parallel zu halten, es entsteht immer ein Parallelogramm dabei!)


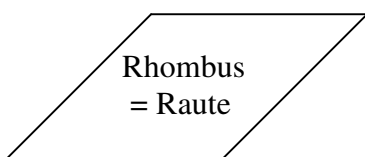
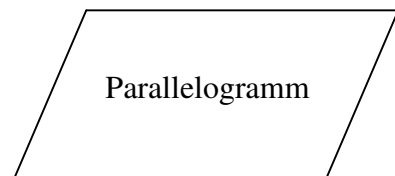
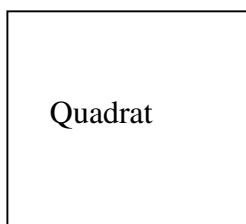
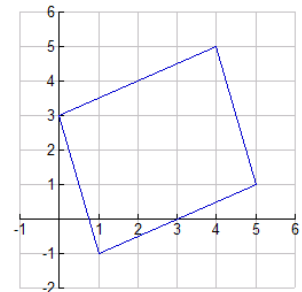
Orthogonalitätskriterium: Dazu berechnen wir das skalare Produkt:

$$\vec{AB} \circ \vec{BC} = \begin{pmatrix} 4 \\ 2 \end{pmatrix} \circ \begin{pmatrix} -1 \\ 4 \end{pmatrix} = 4 \cdot (-1) + 2 \cdot 4 = 4$$

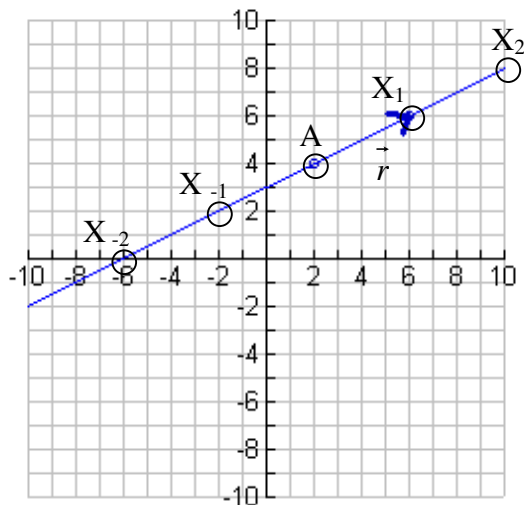
Das ist nicht Null, daher kein rechter Winkel bei B \rightarrow **kein Rechteck**

Länge: je zwei gegenüberliegende Seiten sind gleich lang, die anliegenden Seiten sind nicht gleich lang \rightarrow **kein Quadrat**

also ist es ein **Parallelogramm**



Geradendarstellung



Die Punkte auf einer Geraden lassen sich folgendermaßen finden:

Gegeben sei der Punkt A und der Richtungsvektor \vec{r} . Dann ergibt sich:

$X_1 = A + 1 \cdot \vec{r}$	$X_2 = A + 2 \cdot \vec{r}$	$X_3 = A + 3 \cdot \vec{r}$	$X_t = A + t \cdot \vec{r}$
-----------------------------	-----------------------------	-----------------------------	-------	-----------------------------

Daraus folgt die **Geradendarstellung in Parameterform** (Parameter t)

g: $X = A + t \cdot \vec{r}$

Beispiel 1:

- a) Gesucht ist die Parameterdarstellung der Geraden g durch A(-3|2) und B(5|-3).
- b) sind C(-19|12) und D(5|3) auf der Geraden g ?
- c) Wie muss x gewählt werden, damit E(x|-8) auf der Geraden liegt ?

Lösung:

a) g: $X = A + t \cdot \overrightarrow{AB}$ $\overrightarrow{AB} = B - A = \begin{pmatrix} 5 \\ -3 \end{pmatrix} - \begin{pmatrix} -3 \\ 2 \end{pmatrix} = \begin{pmatrix} 8 \\ -5 \end{pmatrix}$

g: $X = \begin{pmatrix} -3 \\ 2 \end{pmatrix} + t \cdot \begin{pmatrix} 8 \\ -5 \end{pmatrix}$

b) Wir setzen C für X ein:

$$\begin{pmatrix} -19 \\ 12 \end{pmatrix} = \begin{pmatrix} -3 \\ 2 \end{pmatrix} + t \cdot \begin{pmatrix} 8 \\ -5 \end{pmatrix}$$



und spalten die Gleichung waagrecht in 2 Zeilen:

$$\begin{cases} -19 = -3 + 8t \\ 12 = 2 - 5t \end{cases}$$

und lösen die beiden Gleichungen in t auf:

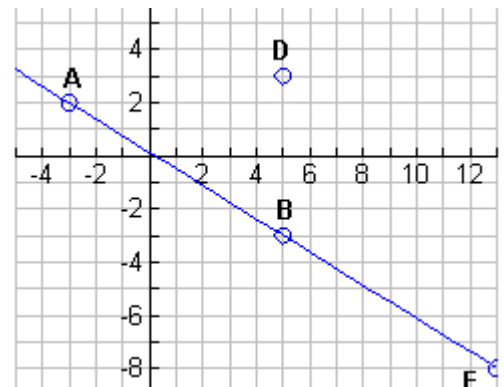
$$-19 = -3 + 8t \rightarrow -16 = 8t \rightarrow -2 = t$$

$$12 = 2 - 5t \rightarrow 10 = -5t \rightarrow -2 = t$$

da die beiden Lösungen für t gleich sind, liegt C auf g.

Dasselbe machen wir für D:

$$\begin{pmatrix} 5 \\ 3 \end{pmatrix} = \begin{pmatrix} -3 \\ 2 \end{pmatrix} + t \cdot \begin{pmatrix} 8 \\ -5 \end{pmatrix}$$



c) Wir ersetzen X in der Geradengleichung durch E:

$$\begin{pmatrix} x \\ -8 \end{pmatrix} = \begin{pmatrix} -3 \\ 2 \end{pmatrix} + t \cdot \begin{pmatrix} 8 \\ -5 \end{pmatrix}$$

spalten in zwei Zeilen:

$$x = -3 + 8t$$

$$-8 = 2 - 5t \rightarrow t = 2$$

dies eingesetzt in die erste Zeile:

$$x = -3 + 8 \cdot 2 = 13 \rightarrow \mathbf{E(13|-8)}$$

$$\begin{cases} 5 = -3 + 8t \\ 3 = 2 - 5t \end{cases}$$

und lösen die beiden Gleichungen in t auf:

$$5 = -3 + 8t \rightarrow 8 = 8t \rightarrow 1 = t$$

$$3 = 2 - 5t \rightarrow 1 = -5t \rightarrow -1/5 = t$$

da die beiden Lösungen für t **nicht** gleich sind,
liegt D **nicht** auf g.

Beispiel 2:

a) Erstellen Sie eine parallele Gerade h_1 zu $g: X = \begin{pmatrix} -3 \\ 2 \end{pmatrix} + t \cdot \begin{pmatrix} 8 \\ -5 \end{pmatrix}$ durch $Q(1|4)$

b) Erstellen Sie eine normale Gerade h_2 zu g durch Q

Lösung:

a) Eine **parallele** Gerade hat den gleichen Richtungsvektor wie g, der Startpunkt ist allerdings anders:

$$h_1: X = \begin{pmatrix} 1 \\ 4 \end{pmatrix} + t \cdot \begin{pmatrix} 8 \\ -5 \end{pmatrix}$$

b) Eine **normale** Gerade hat den gekippten Vektor als Richtungsvektor: $\begin{pmatrix} 8 \\ -5 \end{pmatrix}^L = \begin{pmatrix} 5 \\ 8 \end{pmatrix}$

$$h_2: X = \begin{pmatrix} 1 \\ 4 \end{pmatrix} + t \cdot \begin{pmatrix} 5 \\ 8 \end{pmatrix}$$

Geraden schneiden – das ergibt einen Schnittpunkt:

Beispiel:

Welchen Schnittpunkt erzeugen die Geraden $g: X = \begin{pmatrix} 3 \\ 3 \end{pmatrix} + t \cdot \begin{pmatrix} 3 \\ -3 \end{pmatrix}$ mit $h: X = \begin{pmatrix} 2 \\ 0 \end{pmatrix} + s \cdot \begin{pmatrix} 1 \\ -3 \end{pmatrix}$?

Lösung:

Wenn der gemeinsame Schnittpunkt X von beiden Geraden gesucht wird, muss $X=X$ gelten und daher kann man die rechten Seiten der Geradengleichungen gleich setzen:

$$\begin{pmatrix} 3 \\ 3 \end{pmatrix} + t \cdot \begin{pmatrix} 3 \\ -3 \end{pmatrix} = \begin{pmatrix} 2 \\ 0 \end{pmatrix} + s \cdot \begin{pmatrix} 1 \\ -3 \end{pmatrix}$$

Nun kommt der Hammer



und hackt das in zwei Zeilen:

$$\begin{cases} 3 + 3t = 2 + s \\ 3 - 3t = 0 - 3s \end{cases}$$

und wir haben Glück, durch einfache Addition der Gleichungen verschwindet der Parameter t:

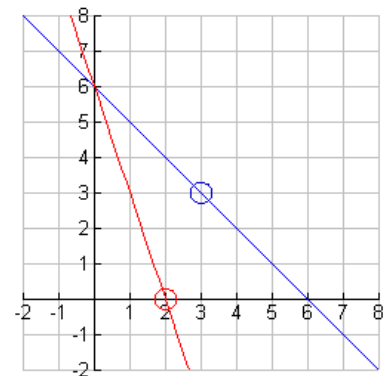
$$6 = 2 - 2s \rightarrow 4 = -2s \rightarrow -2 = s$$

Und dann setzen wir s dort ein, wo es vorkommt:

$$X = \begin{pmatrix} 2 \\ 0 \end{pmatrix} + s \cdot \begin{pmatrix} 1 \\ -3 \end{pmatrix} =$$

$$\begin{pmatrix} 2 \\ 0 \end{pmatrix} + (-2) \cdot \begin{pmatrix} 1 \\ -3 \end{pmatrix} = \begin{pmatrix} 2 \\ 0 \end{pmatrix} + \begin{pmatrix} -2 \\ 6 \end{pmatrix} = \begin{pmatrix} 0 \\ 6 \end{pmatrix}$$

Damit haben wir den Schnittpunkt S(0|6) erhalten !!!



Höhenschnittpunkt – Umkreismittelpunkt – Schwerpunkt beim Dreieck

Beispiel:

Gegeben ist das Dreieck ABC mit A(2|-2) B(7|3) C(-2|6)

Zeichnen und berechnen Sie den Höhengsnittpunkt

Lösung:

Als **erstes** brauchen wir die Höhe auf die Seite AB, die durch den Eckpunkt C geht und rechtwinkelig zu AB verläuft. Somit müsste die Parameterdarstellung lauten: $h_{AB}: X = C + t \cdot \overrightarrow{AB}^L$

Wir berechnen zuerst $\overrightarrow{AB} = B - A = \begin{pmatrix} 7 \\ 3 \end{pmatrix} - \begin{pmatrix} 2 \\ -2 \end{pmatrix} = \begin{pmatrix} 5 \\ 5 \end{pmatrix}$

dann kippen wir den Vektor nach links: $\overrightarrow{AB}^L = \begin{pmatrix} -5 \\ 5 \end{pmatrix}$

und setzen ein in die Formel: $h_{AB}: X = C + t \cdot \overrightarrow{AB}^L = \begin{pmatrix} -2 \\ 6 \end{pmatrix} + t \cdot \begin{pmatrix} -5 \\ 5 \end{pmatrix}$

Als **zweites** brauchen wir die Höhe auf die Seite BC, die durch den Eckpunkt A geht und rechtwinkelig zu BC verläuft: $h_{BC}: X = A + s \cdot \overrightarrow{BC}^L$

Wir berechnen zuerst $\overrightarrow{BC} = C - B = \begin{pmatrix} -2 \\ 6 \end{pmatrix} - \begin{pmatrix} 7 \\ 3 \end{pmatrix} = \begin{pmatrix} -9 \\ 3 \end{pmatrix}$

dann kippen wir den Vektor nach links: $\overrightarrow{BC}^L = \begin{pmatrix} -3 \\ -9 \end{pmatrix}$

und setzen ein in die Formel: $h_{BC}: X = A + s \cdot \overrightarrow{BC}^L = \begin{pmatrix} 2 \\ -2 \end{pmatrix} + s \cdot \begin{pmatrix} -3 \\ -9 \end{pmatrix}$

Und der **dritte** Streich ist das Schneiden der beiden Höhen:

$h_{AB} \cap h_{BC}: \begin{pmatrix} -2 \\ 6 \end{pmatrix} + t \cdot \begin{pmatrix} -5 \\ 5 \end{pmatrix} = \begin{pmatrix} 2 \\ -2 \end{pmatrix} + s \cdot \begin{pmatrix} -3 \\ -9 \end{pmatrix}$

Nun kommt der Hammer und hackt das in zwei Zeilen:

$-2 - 5t = 2 - 3s$

$6 + 5t = -2 - 9s$

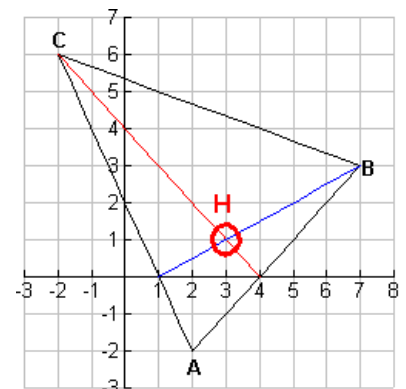
addiert ergibt sich: $4 = 0 - 12s \rightarrow s = 4/-12 = -1/3$

und nun setzen wir s dort ein, wo es vorkommt (!!):

X =

$\begin{pmatrix} 2 \\ -2 \end{pmatrix} + s \cdot \begin{pmatrix} -3 \\ -9 \end{pmatrix} = \begin{pmatrix} 2 \\ -2 \end{pmatrix} + (-1/3) \cdot \begin{pmatrix} -3 \\ -9 \end{pmatrix} = \begin{pmatrix} 2 \\ -2 \end{pmatrix} + \begin{pmatrix} +1 \\ +3 \end{pmatrix} = \begin{pmatrix} 3 \\ 1 \end{pmatrix}$

Damit ist unser **Höhenschnittpunkt: H(3|1)**



Der Umkreismittelpunkt wird so ähnlich ermittelt. Die **Streckensymmetralen** sind auch senkrecht auf

die Seiten, gehen aber durch den **Seitenmittelpunkt**: $M_{AB} = \frac{A+B}{2} = \frac{\begin{pmatrix} 2 \\ -2 \end{pmatrix} + \begin{pmatrix} 7 \\ 3 \end{pmatrix}}{2} = \frac{\begin{pmatrix} 9 \\ 1 \end{pmatrix}}{2} = \begin{pmatrix} 4,5 \\ 0,5 \end{pmatrix}$

Beispiel:

Gegeben ist das Dreieck ABC mit A(2|-2) B(7|3) C(-2|6)

Zeichnen und berechnen Sie den Umkreismittelpunkt

Lösung:

Als **erstes** brauchen wir die Seitensymmetrale auf die Seite AB, die durch den Punkt M_{AB} geht und rechtwinkelig zu AB verläuft. Somit müsste die Parameterdarstellung lauten: $s_{AB}: X = M_{AB} + t \cdot \overrightarrow{AB}^{\perp}$

Wir berechnen zuerst $\overrightarrow{AB} = B - A = \begin{pmatrix} 7 \\ 3 \end{pmatrix} - \begin{pmatrix} 2 \\ -2 \end{pmatrix} = \begin{pmatrix} 5 \\ 5 \end{pmatrix}$ und kippen wir den Vektor: $\overrightarrow{AB}^{\perp} = \begin{pmatrix} -5 \\ 5 \end{pmatrix}$

$$M_{AB} = \frac{A+B}{2} = \frac{\begin{pmatrix} 2 \\ -2 \end{pmatrix} + \begin{pmatrix} 7 \\ 3 \end{pmatrix}}{2} = \frac{\begin{pmatrix} 9 \\ 1 \end{pmatrix}}{2} = \begin{pmatrix} 4,5 \\ 0,5 \end{pmatrix}$$

dann berechnen wir den Mittelpunkt der Seite AB:

und setzen ein in die Formel: $s_{AB}: X = M_{AB} + t \cdot \overrightarrow{AB}^{\perp} = \begin{pmatrix} 4,5 \\ 0,5 \end{pmatrix} + t \cdot \begin{pmatrix} -5 \\ 5 \end{pmatrix}$

Als **zweites** brauchen wir die Seitensymmetrale auf die Seite BC, die durch den Punkt M_{BC} geht und rechtwinkelig zu BC verläuft. $s_{BC}: X = M_{BC} + s \cdot \overrightarrow{BC}^{\perp}$

Wir berechnen zuerst $\overrightarrow{BC} = C - B = \begin{pmatrix} -2 \\ 6 \end{pmatrix} - \begin{pmatrix} 7 \\ 3 \end{pmatrix} = \begin{pmatrix} -9 \\ 3 \end{pmatrix}$ und kippen wir den Vektor: $\overrightarrow{BC}^{\perp} = \begin{pmatrix} -3 \\ -9 \end{pmatrix}$

$$M_{BC} = \frac{B+C}{2} = \frac{\begin{pmatrix} 7 \\ 3 \end{pmatrix} + \begin{pmatrix} -2 \\ 6 \end{pmatrix}}{2} = \frac{\begin{pmatrix} 5 \\ 9 \end{pmatrix}}{2} = \begin{pmatrix} 2,5 \\ 4,5 \end{pmatrix}$$

dann berechnen wir den Mittelpunkt der Seite AB:

und setzen ein in die Formel: $s_{BC}: X = M_{BC} + s \cdot \overrightarrow{BC}^{\perp} = \begin{pmatrix} 2,5 \\ 4,5 \end{pmatrix} + s \cdot \begin{pmatrix} -3 \\ -9 \end{pmatrix}$

Und der **dritte** Streich ist das Schneiden

der beiden Seitensymmetralen:

$$s_{AB} \cap s_{BC}: \begin{pmatrix} 4,5 \\ 0,5 \end{pmatrix} + t \cdot \begin{pmatrix} -5 \\ 5 \end{pmatrix} = \begin{pmatrix} 2,5 \\ 4,5 \end{pmatrix} + s \cdot \begin{pmatrix} -3 \\ -9 \end{pmatrix}$$

Nun kommt der Hammer und hackt das in zwei Zeilen:

$$4,5 - 5t = 2,5 - 3s$$

$$0,5 + 5t = 4,5 - 9s$$

addiert ergibt sich: $5 = 7 - 12s \rightarrow s = -2/-12 = 1/6$

und nun setzen wir s dort ein, wo es vorkommt (!!):

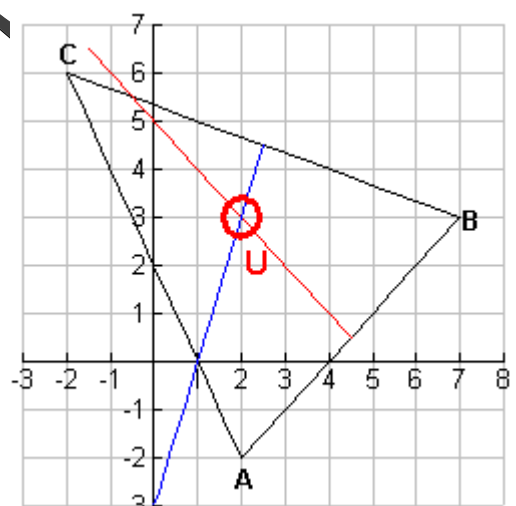
$$X = \begin{pmatrix} 2,5 \\ 4,5 \end{pmatrix} + s \cdot \begin{pmatrix} -3 \\ -9 \end{pmatrix} = \begin{pmatrix} 2,5 \\ 4,5 \end{pmatrix} + (1/6) \cdot \begin{pmatrix} -3 \\ -9 \end{pmatrix} =$$

$$= \begin{pmatrix} 2,5 \\ 4,5 \end{pmatrix} + \begin{pmatrix} 1/6 \cdot (-3) \\ 1/6 \cdot (-9) \end{pmatrix} = \begin{pmatrix} 2,5 \\ 4,5 \end{pmatrix} + \begin{pmatrix} -0,5 \\ -1,5 \end{pmatrix} = \begin{pmatrix} 2 \\ 3 \end{pmatrix}$$

Damit ist unser **Umkreismittelpunkt: U(2|3)**

Zum Abschluss der **Schwerpunkt**, der diesmal ganz leicht ist:

$$S = \frac{A+B+C}{3} = \frac{\begin{pmatrix} 2 \\ -2 \end{pmatrix} + \begin{pmatrix} 7 \\ 3 \end{pmatrix} + \begin{pmatrix} -2 \\ 6 \end{pmatrix}}{3} = \frac{\begin{pmatrix} 7 \\ 7 \end{pmatrix}}{3} = \begin{pmatrix} 7/3 \\ 7/3 \end{pmatrix} \approx \begin{pmatrix} 2,3 \\ 2,3 \end{pmatrix}$$



EULER'sche Gerade: Umkreismittelpunkt, Höhenschnittpunkt und Schwerpunkt liegen auf einer Geraden und der Schwerpunkt drittelt die Strecke HU.